



გეგმვა

2018-2022
წლების ეროვნული
სასწავლო გეგმის
მისაღწევი
შედეგებისა და
ინდიკატორების
მიხედვით

2

ტესტირების რეგულირება
მაია ბლიაძე



ბაკურ სულაკაურის
გამომცემლობა

სარჩევი

ტესტი 1	ბუნ.ი.2. მოსწავლემ უნდა შეძლოს სიცოცხლის ძირითადი ნიშნების ამოცნობა	4
ტესტი 2	ბუნ.ი.3. მოსწავლემ უნდა შეძლოს ორგანიზმებისთვის გარემოს მნიშვნელობაზე მსჯელობა	20
ტესტი 3	ბუნ.ი.4. მოსწავლემ უნდა შეძლოს მაგნიტის მოქმედების დახასიათება	26
ტესტი 4	ბუნ.ი.5. მოსწავლემ უნდა შეძლოს სხეულის და მისი შემადგენელი ნივთიერების/ მასალის თვისებების დაკავშირება ამ სხეულის დანიშნულებასთან	29
ტესტი 5	ბუნ.ი.6. მოსწავლემ უნდა შეძლოს წყლისა და ხმელეთის ობიექტების აღწერა	34
ტესტი 6	ბუნ.ი.7. მოსწავლემ უნდა შეძლოს ყოველდღიურ ცხოვრებაში გამოყენებული ბუნებრივი რესურსების დასახელება და მათ მნიშვნელობაზე მსჯელობა	39

1. ✓-ით მონიშნე ცოცხალი ბუნების ობიექტები.



2. გადახაზე ზედმეტი სიტყვები:

- ა. ცოცხალი ბუნებაა: მზე, ადამიანი, ჰაერი, ცხოველები, ქვები, მცენარეები.
- ბ. არაცოცხალი ბუნებაა: მცენარეები, სოკოები, ცხოველები, ადამიანი, ვარსკვლავები.

3. გაუსვი ხაზი ცოცხალი ბუნების ობიექტებს.


მზე, ნაძვი, ბაყაყი, ჰაერი, ვარდი, კაქტუსი,
ვარსკვლავი, კურდღელი, ღრუბელი, ბუზი,
ნიადაგი, მგელი, წყალი, კოლო.

4. შემოხაზე, რომელ სურათზეა ნაჩვენები კავშირი ცოცხალ და არაცოცხალ ბუნებას შორის:

ა.



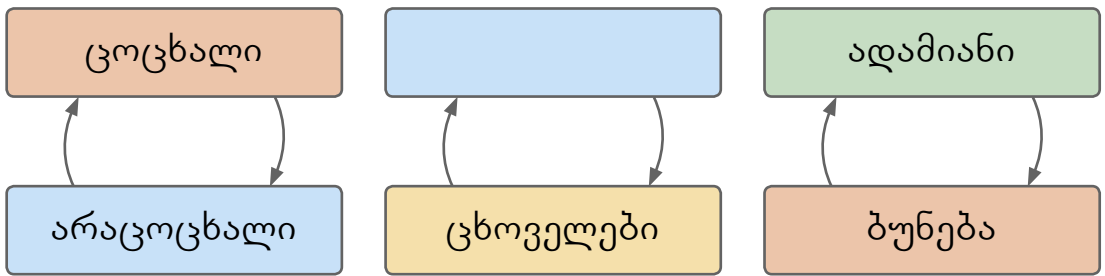
ბ.



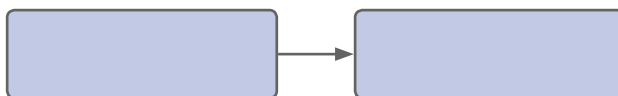
გ.



5. ჩასვი გამოტოვებული სიტყვა.



6. სურათის მიხედვით დაადგინე კავშირი ცოცხალ და არაცოცხალ ბუნებას შორის და ჩანერე შესაბამისი სიტყვები.



7. შემოხაზე სწორი პასუხი:

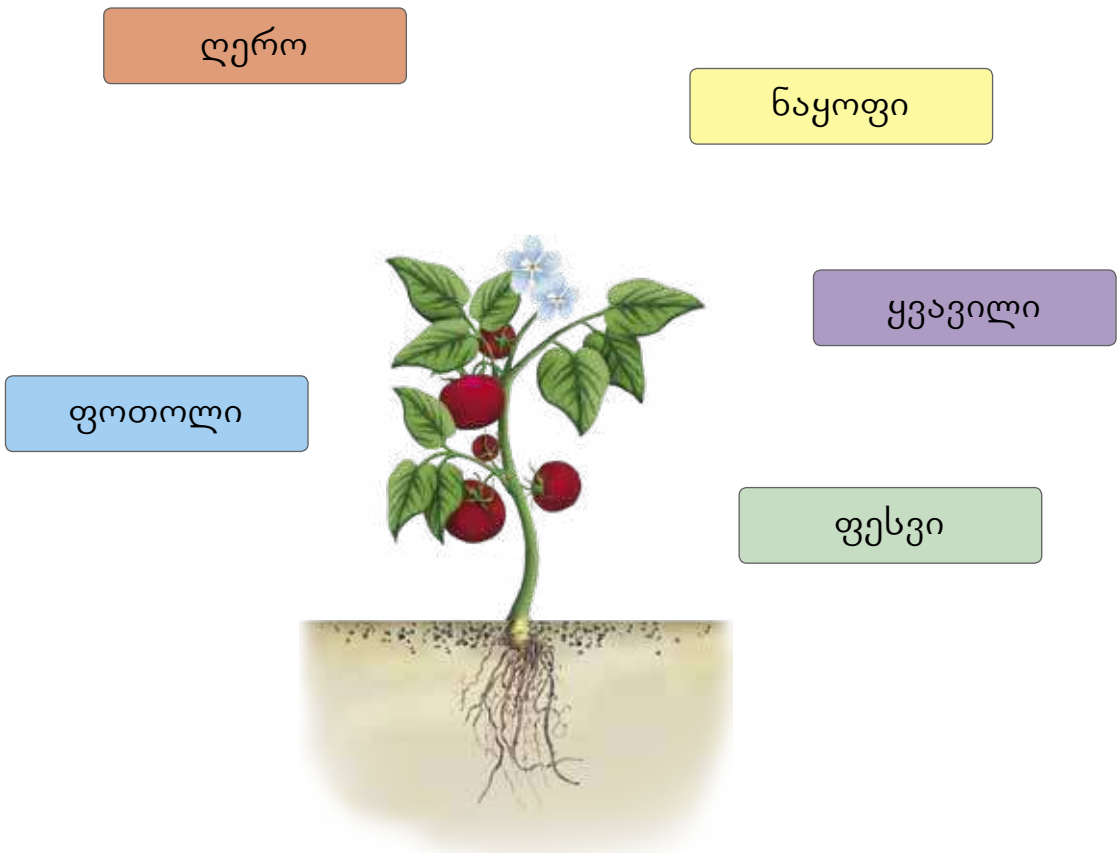
ა. რა ეხმარება ცხოველებს საკვების მოპოვებაში, თავის დაცვაში, საბინადროს მონყობაში?

სუნთქვა მოძრაობა გამრავლება

ბ. ჩამოთვლილთაგან რომელს არ ახასიათებს კვება, სუნთქვა, ზრდა, მოძრაობა?

მცენარეს ცხოველს ქვას ადამიანს

8. მცენარის ნაწილები ხაზებით დააკავშირე მათ სახელწოდებებთან.



9. რა არ სჭირდება მცენარეს ზრდა-განვითარებისათვის? შემოხაზე სწორი პასუხი:

სინათლე

ბინა

ნიადაგი

წყალი

10. მცენარისთვის დამახასიათებელ რომელ თვისებას ასახავს სურათები? სწორი პასუხი მონიშნე ✓-ით.



- მცენარე იზრდება.
- მცენარე მოძრაობს.
- მცენარე მრავლდება.

11. რა არის ნაჩვენები სურათზე? სწორი პასუხი მონიშნე ✓-ით.



- მცენარის ზრდის პროცესი
- მცენარის გამრავლება
- მცენარის კურკა და ღერო

12. გადახაზე თითოეულ რიგში ზედმეტი ცხოველი:




ა.



ბ.



13. შეადარე ერთმანეთს სურათზე გამოსახული ცხოველები. ნითელ კვადრატებში დანომრე ცხოველები მათი სხეულის ზომის ზრდის მიხედვით, ხოლო ცისფერ კვადრატებში – მათი სხეულების ზომის შემცირების მიხედვით.




14. სურათებზე ისრებით დააკავშირე ცოცხალი ორგანიზმების ზრდა-განვითარების ეტაპები:

ა.



ბ.



გ.



დ.



ე.



ვ.

