


გურამ პერიშვილი
იათამფა კოტიშვილი
ბაკურ სულაკაური

1

მათემატიკა



გრიფინიჭებულია საქართველოს
განათლების, მეცნიერების, კულტურისა და
სპორტის სამინისტროს მიერ 2018 წელს.



მოსწავლის რვეული



ბაკურ სულაკაურის
გამომცემლობა

სარჩევი



შესავალი

მოვემზადოთ წერისათვის 5

თავი 1

რიცხვები 1-დან 5-მდე

- 1. დაწყვილება 16
- 2. შიგნით და გარეთ 17
- 3. მიმდევრობა 18
- 4. რიცხვი 1 19
- 5. რიცხვი 2 20
- 6. რიცხვი 3 21
- 7. რიცხვი 4 22
- 8. რიცხვი 5 23
- 9. მეტ-ნაკლებობა და ტოლობა 24

თავი 2

ვიპარჯივით 5-მდე ანგარიში

- 1. შეკრება 25
- 2. მერამდენია? 26
- 3. სამეულები 28
- 4. ოთხეულები 29
- 5. ხუთეულები 30
- 6. ცხრილი და ციფრები 31
- 7. ფული 32
- 8. რამდენიმე არე 33

თავი 3

რიცხვები 6-დან 10-მდე

- 1. რიცხვი 6 34
- 2. რიცხვი 7 35
- 3. რიცხვი 8 36

- 4. რიცხვი 9 37
- 5. რიცხვი 10 38
- 6. რიცხვები 1-დან 10-მდე 39
- 7. შეკრება 10-ის ფარგლებში 40
- 8. მერამდენია? 41
- 9. გამოკლება 42
- 10. არეების საზღვრები 43
- 12. რამდენით მეტია? 44
- 13. 5-მდე შევსება 45
- 14. 10-მდე შევსება 46

თავი 4

ვიპარჯივით 10-მდე ანგარიში

- 1. რიცხვების დალაგება ზრდადობით 47
- 2. რიცხვების დალაგება კლებადობით 48
- 3. ნული 49
- 4. გამოსახულება 50
- 5. გზაჯვარედინები წირზე 51
- 6. შესაკრებები და ჯამი 52
- 7. საკლები, მაკლები, სხვაობა 53
- 8. 10 თეთრი და 10 ლარი 54

თავი 5

რიცხვები 11-დან 15-მდე

- 1. ათეული 55
- 2. თერთმეტი 56
- 3. თორმეტი 57
- 4. ცამეტი 58
- 5. თოთხმეტი 59
- 6. თხუთმეტი 60
- 7. გახსნილი წირი და მონაკვეთი 61
- 8. ტეხილი 62
- 9. ჯამების და სხვაობების შედარება 63



თავი 6

ვიპარჯიშოთ 15-მდე ანბარიშვი

1. რამდენიმე შესაკრები 64
2. 15-მდე შევსება 65
3. შეკრება 15-ის ფარგლებში 66
4. შეკრებისას ათეულის წამოქმნა 67
5. შეკრების და გამოკლების ცხრილები . 68
6. გამოსახულებების შედარება
დანყვილებით 69
7. სამკუთხედი და ოთხკუთხედი 70
8. მრავალკუთხედი და წრე 71
9. რომელი საათია? 72

თავი 7

რიცხვები 16-დან 20-მდე



1. თექვსმეტი 73
2. ჩვიდმეტი 74
3. თვრამეტი 75
4. ცხრამეტი 76
5. ოცი 77
6. რიცხვის დაშლა შესაკრებებად 78
7. გეომეტრიული ფიგურები 80

თავი 8





ვიპარჯიშოთ 20-მდე ანბარიშვი

1. რიცხვების ღერძი 81
2. გაორმაგება და განახევრება 82
3. შეკრება ათეულის წარმოქმნით 83
4. გამოკლება ათეულის დაშლით 84
5. 20-მდე შევსება 85
6. ფული 86
7. სწორი თუ მცდარი? 87
8. მონაცემების შეტანა ცხრილში 88

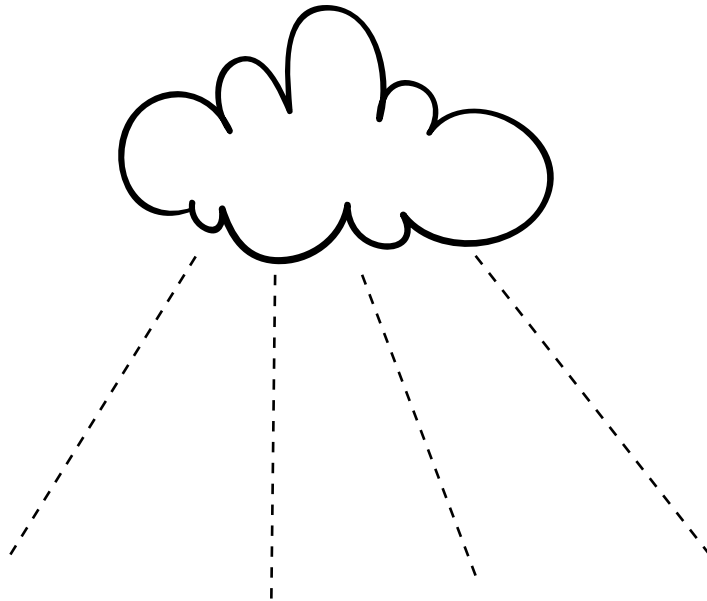





მოვემზადოთ წერისათვის




გააყოლე კალამი წყვეტილ ხაზებს
ზემოდან ქვემოთ.




გააყოლე კალამი წყვეტილ ხაზებს
ზემოდან ქვემოთ.



მიიყვანე ფუტკრები ყვავილებთან.




გააყოლე კალამი ნყვეტილ ხაზებს
მარცხნიდან მარჯვნივ.




გააყოლე კალამი ნყვეტილ ხაზს.





გააფერადე ყვავილები სხვადასხვა ფერით.





გააყოლე კალამი წყვეტილ ხაზებს.



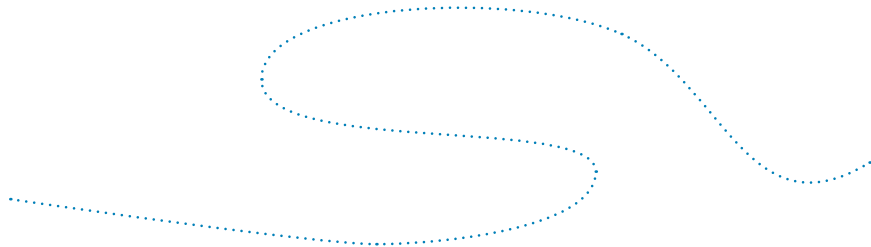



გააფერადე მარჯვენა მხარეს უჯრები ისე, როგორც მარცხენა მხარესაა.




გააფერადე შესაბამისი უჯრები მარცხენა მხარეს.




გააყოლე კალამი წყვეტილ ხაზებს მარცხნიდან მარჯვნივ.





გამოწერე ნიმუშები სტრიქონის ბოლომდე.







გამონერე ნიმუშები სტრიქონის ბოლომდე.



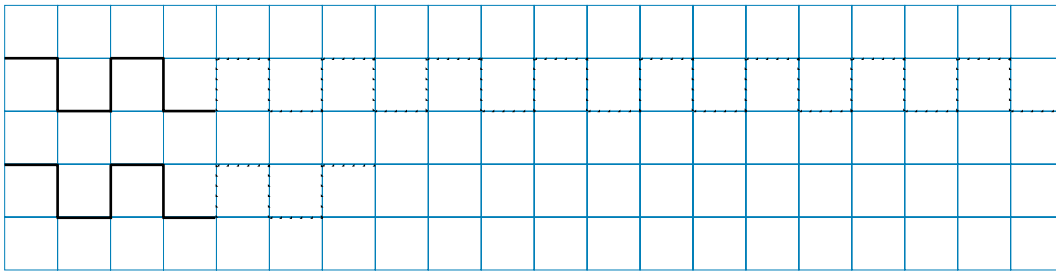
გააფერადე შესაბამისი უჯრები მარჯვენა ცხრილში.



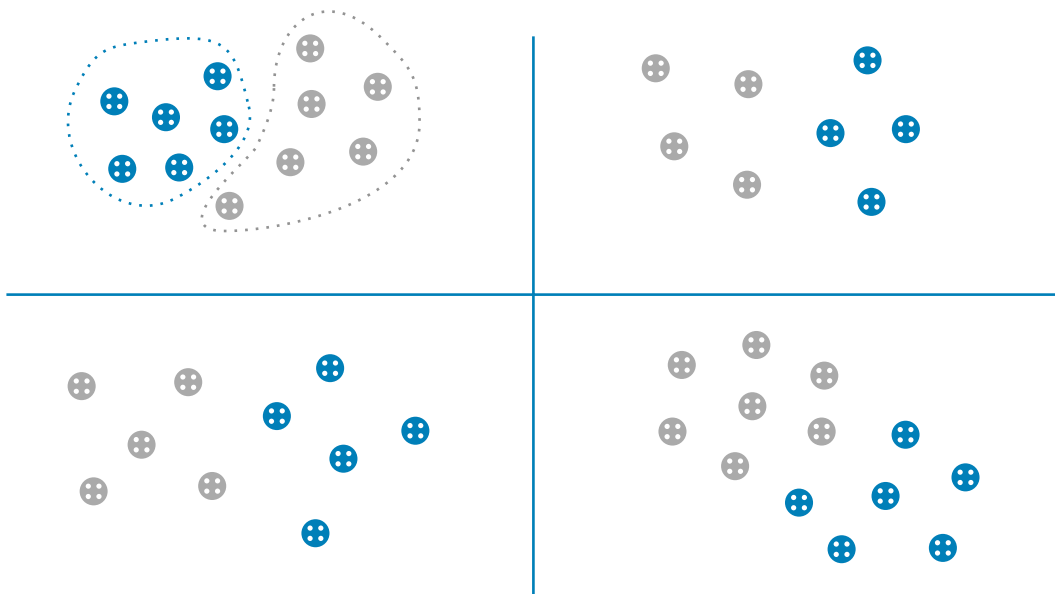
შემოხაზე ერთნაირები.



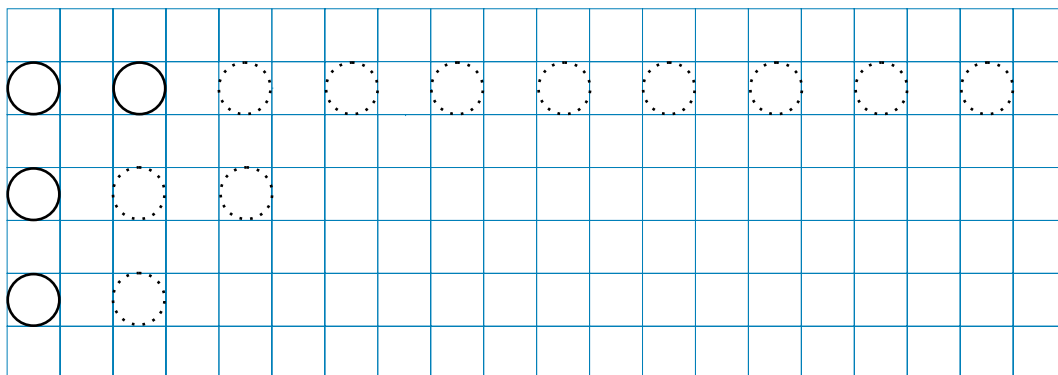
გამონერე ნიმუშები სტრიქონის ბოლომდე.



ლურჯი ღილები შემოხაზე ლურჯად, ნაცრისფერი ღილები – წითლად.



გამონერე ნიმუშები სტრიქონის ბოლომდე.



გამონერე ნიმუშები სტრიქონის ბოლომდე.

