

1

მათემატიკა



მოსწავლის წიგნი

გრიფინიჭებულია საქართველოს განათლების, მეცნიერების,
კულტურისა და სპორტის სამინისტროს მიერ 2018 წელს.



სარჩევი



თავი 1



რიცხვები 1-დან 5-მდე

1. მარცხნივ, მარჯვნივ, შუაში . . . 8	9. ორი 16
2. ზევით, ქვევით, შუაში 9	10. სამი 17
3. წინ, უკან 10	11. ოთხი 18
4. დანყვილება 11	12. ხუთი 19
5. შიგნით და გარეთ 12	13. მეტ-ნაკლებობის ნიშანი . . . 20
6. სტრიქონი და სვეტი 13	14. ტოლობის ნიშანი 21
7. მიმდევრობა 14	15. გავიმეოროთ ნასწავლი . . . 22
8. ერთი 15	

თავი 2



ვივარჯიშოთ 5-მდე ანბარიში

1. შეკრება 24	6. ცხრილი და ციფრები 29
2. მერამდენია? 25	7. თეთრები 30
3. სამეულები 26	8. ლარები 31
4. ოთხეულები 27	9. რამდენიმე არე 32
5. ხუთეულები 28	10. გავიმეოროთ ნასწავლი . . . 33

თავი 3



რიცხვები 6-დან 10-მდე

- | | | | |
|-------------------------------|----|-----------------------------------|----|
| 1. ექვსი | 36 | 8. რამდენით მეტია? | |
| 2. შვიდი | 37 | რამდენით ნაკლებია? | 43 |
| 3. რვა | 38 | 9. 5-მდე შევსება | 44 |
| 4. ცხრა | 39 | 10. 10-მდე შევსება | 45 |
| 5. ათი | 40 | 11. გავიმეოროთ ნასწავლი | 46 |
| 6. გამოკლება | 41 | | |
| 7. არეების საზღვარი | 42 | | |



თავი 4



ვივარჯიშოთ 10-მდე ანბარი

- | | | | |
|-----------------------------|----|--|----|
| 1. რიცხვების დალაგება | | 6. გამოსახულების და | |
| ზრდადობით | 48 | რიცხვების შედარება | 53 |
| 2. რიცხვების დალაგება | | 7. გზაჯვარედინები წირზე | 54 |
| კლებადობით | 49 | 8. შესაკრებები და ჯამი | 55 |
| 3. რიცხვების კიბე | 50 | 9. საკლები, მაკლები, სხვაობა | 56 |
| 4. ნული | 51 | 10. 10 თეთრი და 10 ლარი | 57 |
| 5. გამოსახულება | 52 | 11. გავიმეოროთ ნასწავლი | 58 |



თავი 5



რიცხვები 11-დან 15-მდე

1. ათეული	60	7. გახსნილი წირი და	
2. თერთმეტი	61	მონაკვეთი	66
3. თორმეტი	62	8. ტეხილი	67
4. ცამეტი	63	9. ჯამების შედარება	68
5. თოთხმეტი	64	10. სხვაობების შედარება	69
6. თხუთმეტი	65	11. გავიმეოროთ ნასწავლი	70

თავი 6



ვივარჯიშოთ 15-მდე ანბარიში

1. რამდენიმე შესაკრები	72	7. გამოსახულებების შედარება	
2. 15-მდე შევსება	73	დანყვილებით	78
3. შეკრება 15-ის ფარგლებში	74	8. სამკუთხედი და	
4. შეკრებისას ათეულის		ოთხკუთხედი	79
ნარმოქმნა	75	9. წრე, მრავალკუთხედი	80
5. შეკრების ცხრილი	76	10. რომელი საათია?	81
6. გამოკლების ცხრილი	77	11. გავიმეოროთ ნასწავლი	82



თავი 7



რიცხვები 16-დან 20-მდე

1. თექვსმეტი	84	6. რიცხვის დაშლა	
2. ჩვიდმეტი	85	ორ შესაკრებად	89
3. თვრამეტი	86	7. სამკუთხედი, ოთხკუთხედი,	
4. ცხრამეტი	87	ხუთკუთხედი	90
5. ოცი	88	8. მართკუთხედი	91
		9. წრე და წრეწირი.	92

თავი 8



ვივარჯიშოთ 20-მდე ანბარიში

1. რიცხვების ლერძი	94	6. 20-მდე შევსება	99
2. გაორმაგება	95	7. 20 თეთრი და 20 ლარი.	100
3. განახევრება	96	8. სწორია თუ მცდარი?	101
4. შეკრება ათეულის		9. მონაცემების შეტანა	
წარმოქმნით	97	ცხრილში	102
5. გამოკლება ათეულის			
დაშლით	98	დამატებითი	
		სავარჯიშოები	103



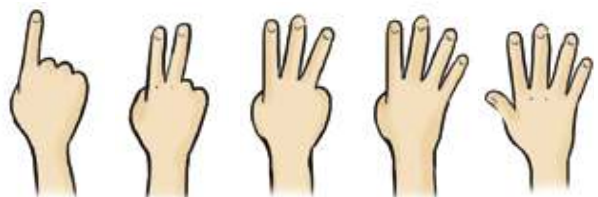
რიცხვები 1-დან 5-მდე



თავი

1 2 3 4 5

ერთი ორი სამი ოთხი ხუთი






ვინ დგას მარცხნივ, გოგო თუ ბიჭი?

ვინ დგას მარჯვნივ?

სად დგას დედა, მარცხნივ, მარჯვნივ თუ შუაში?




რომელია მარჯვნივ? შუაში?


სად არის თევზი, მარცხნივ თუ მარჯვნივ?



კატა უფრო ზევითაა თუ გოგონა?
ბიჭი უფრო ქვევითაა თუ კაცი?



სად არის კომში, ზევით თუ ქვევით?
სად არის ბანანი, ზევით თუ ქვევით?
რომელია შუაში?



კნუტი სკამის წინ ზის თუ უკან?
 რა არის ბურჭების უკან?
 რა არის სასრიალოს წინ?



მასწავლებელი დაფის წინ დგას თუ უკან?
 გოგონა წინ ზის თუ უკან? რამდენი ბიჭი ზის წინ?
 რამდენი ბიჭი ზის უკან?



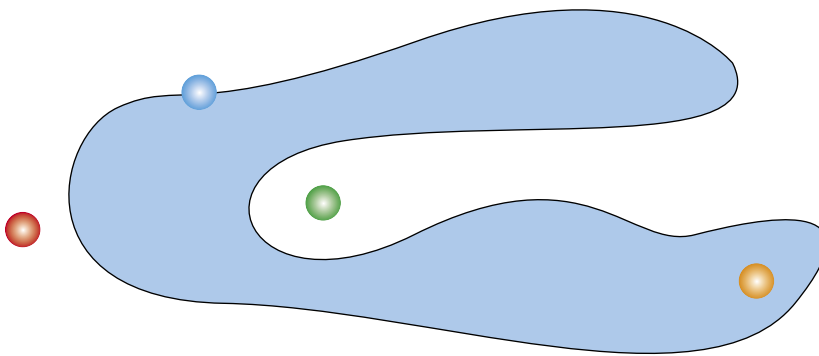
მასწავლებელმა დაანცილა ბავშვები.
 ყოველ გოგოსთან დააყენა ერთი ბიჭი.
 რომელი ბავშვი დარჩა დაუნცილებელი?



ბავშვებს საჩუქრად თითო ბუმტი უნდა დაურიგონ.
 ყველა ბავშვს შეხვდა ბუმტი?



შემოხაზულის გარეთ ბიჭები დგანან თუ გოგონები?
შიგნით?



რა ფერის ბურთულაა შიგნით?
რა ფერის ბურთულაა გარეთ?
მწვანე ბურთულა შიგნითაა თუ გარეთ?
ლურჯი ბურთულა შიგნითაა თუ გარეთ?