

სტარტი 2

2018-2024 წლების ეროვნული სასწავლო გეგმის მიხედვით



ქართულის,
მათემატიკის,
ბუნებისა და
ხელოვნების
ინტეგრირებული
სწავლებლისთვის



სულაკაურის
განმანათლებლობა

ნიმო შიუკაშვილი

სახიზი

1. იხთი თავუნას აბავი

ნანილი I	5
ნანილი II	12

2. წიბნების ჭანყი

ნანილი I	18
ნანილი II	22

3. ურვეულთ მავთხიბი

ნანილი I	31
ნანილი II	36

4. სარუქახი

ნანილი I	44
ნანილი II	49

5. სტუმახი

ნანილი I	57
ნანილი II	62

6. სავანელა

ნანილი I	69
ნანილი II	77

ერთი თავუნას ამბავი

ნაწილი I


მინდორში ერთი თავუნა ცხოვრობდა. ყოველ დილით სოროდან გამოძვრებოდა და საშოვარზე მიცუნცულეობდა. ყანა იქვე იყო და მიწაზე დაბნეულ ქერისა და ხორბლის მარცვლებს ადვილად პოულობდა. ზამთრისათვის სანოვაგეს მონდომებით აგროვებდა, სალამოობით კი შეგროვილ მარცვლებს ითვლიდა და ტომრებში ყრიდა. თითო ტომარაში აუცილებლად 10 მარცვალს აგდებდა. ასე თვლაც უადვილდებოდა. მთელ ზაფხულს დაუზარლად იშრომა. ხუმრობა ხომ არ იყო 20 ტომრის ავსება?!

როცა სარჩო მოიმარაგა, თავუნამ გადანყვიტა, დაზამთრებამდე ემოგზაურა, თუმცა, შორს წასვლის ეშინოდა, რადგან დედა სულ აფრთხილებდა, ტყეში უამრავი მტაცებელი ფრინველი და ცხოველი ცხოვრობს, რომლებიც შენსავით პატარა თავუნებს ემტერებიანო. თავუნამ იცოდა, რომ განსაკუთრებით ბუს უნდა მორიდებოდა, რომელიც დიდი, ყვითელი თვალებით ღამით უკეთ ხედავს.



თაგუნა გზას გაუდგა, საგზლად კი მხოლოდ ორი ტომარა მარცვალნი ნაილო. იმედი ჰქონდა, რამდენიმე დღეს ვიმყოფინებ, მერე კი ტყეში მოვაგროვებ გირჩს, რკოს, თხილს, ნაბლსა და **წინიბოს**.


გასცდა მინდორს, გადაიარა 9 სერი და 9 გორა და მე-5 დღეს ტყემდე მიაღწია. ტყის განაპირას წინვოვანი ხეები: ნაძვი, ფიჭვი და სოჭი იდგა. მათ ქვეშ უამრავი გირჩი ეყარა და მოშეებულმა თაგუნამ მაღიანად დაღრღნა გემრიელი გირჩები; ცოტა დაისვენა და გზა განაგრძო. მერე ფოთლოვან ხეებს: მუხას, თელას, წიფელსა და რცხილას გადააწყდა. მათი ნაყოფიც დიდად ეამა, განსაკუთრებით წინიბო ეგემრიელა. **მაჟალოც** კი დააგემოვნა, მაგრამ მისი გემო საშინლად არ მოეწონა.



წინიბო - წიფლის ნაყოფი

სუხი - საშუალო სიმაღლის მოგვიძო გოხა

მაჟალო - ტყის ვაშლი



აბგღ ქაიოუღი ჟხჟჳ

1. მონიშნე სწორი პასუხი.

ა. სად ცხოვრობდა თავუნა?

ტყეში

მინდოხში

ყანაში

ბ. რას აგროვებდა თავუნა ზამთრისთვის?

ქეჩის მაჩცვალს

ქეჩისა და ხოხბლის მაჩცვალს

თხილსა და კაკაღს

გ. რატომ ყრიდა თავუნა ტომრებში ათ-ათ მარცვალს?

მხოლოდ ათამდე იცოდა თვღა.

აღვიღად ხომ დაეთვარღა.

გომარღაში მეღი ახ ეტოღა.



ღ. რამდენი ტომარა მარცვალღი მოაგროვარღა?

10

15

20

ყ. რამდენი ტომარა მარცვალღი ნაიღო საგზღლად? რატომ?

10: ღიდბანს ხომ ჰყოფნოღა.

2: იმეღი ჰქონღა, იმყოფინებღა.

20: სახღში ხომ დაეგოვებინარღ, ხომეღიმე ცხოვეღი შუეჭამღა.

2. რის შეგროვებას არ აპირებდა თავუნა ტყეში? (გადახაზე ზედმეტი სიტყვა)

გიჩხის


წინიბოს

ჩკოს

მაჭაღოს

წაბღის

თხიღის



3. რამდენი სერი და რამდენი გორა გადაიარა თავუნამ?


10 სუიი და 9 გოხა

9 სუიი და 9 გოხა

9 სუიი და 1 გოხა

4. რომელი ხეები იღვა ტყის განაპირას?

5. კიდევ რომელი ხეები ნახა თავუნამ ტყეში?



6. რამდენი დღე დასჭირდა თაგუნას ტყემდე მისასვლელად?

5

10


20

7. რომელი ხის ნაყოფი არ მოეწონა?

8. რომელი ხის ნაყოფი მოეწონა განსაკუთრებით?

 ბუნება 

9. ტყეში თაგუნას შეხვდა წინვოვანი და ფოთლოვანი ხეები. დააჯგუფე ისინი ამ ცხრილში.

წინვოვანი	ფოთლოვანი 



10. როგორ ტყეში იმოგზაურა თაგუნამ?

ფოთლოვან ტყეში

შუიულ ტყეში

წიწვოვან ტყეში

11. ხაზებით დააკავშირე მცენარეები და მათი ნაყოფები.

ნაძვი


ბუხა

თხილი



ხელოვნება

12. დახატე შერეული ტყე.



÷ 7 - + 3 - **მათემატიკა** - 1 - 5 = +

13. ამოხსენი ამოცანები.

ა. სულ – 20 ტომარა.

თითო ტომარაში – 10 მარცვალი.

რამდენი ცალი მარცვალი შეუგროვებია თავუნას?

Grid area for solving problem 13a.

პასუხი: _____

ბ. თავუნამ საგზლად წაიღო 2 ტომარა მარცვალი.

ტყემდე მისასვლელად მას დასჭირდა 5 დღე.

დღეში რამდენ მარცვალს ჭამდა თავუნა, თუ

ყოველ დღეზე მარცვლების თანაბარი რაოდენობა

გაანანილა? გამოთვალე და შემოხაზე სწორი

პასუხი.




1

2

3

Grid area for solving problem 13b.



ნაწილი II

ტყე ბნელი და ნესტიანი იყო, რადგან ხეების გადახლართულ ტოტებში მზის სხივი ძლივს აღწევდა. თავუნას ცოტათი შესცივდა კიდევ. ამასობაში დაღამდა. მოქანცულმა თავუნამ ნაძვის ქვეშ მოიკალათა და, ის იყო, დაძინებას აპირებდა, რომ უცნაური კვილი მოესმა. **დამფრთხალი** თავუნა უფრო მეტად მიეკრა **ზროს** და **გაირინდა**. იმავე ნაძვზე უზარმაზარი ფრინველი შემოჯდა და დიდი, ყვითელი თვალები არემარეს მოავლო. მერე ძლიერი ფრთები დაიქნია და იქაურობას გაეცალა.

საბრალო თავუნას რაღა დააძინებდა?! მზის პირველმა სხივმა ოდნავ გაანათა თუ არა ტყე, მაშინვე შინისაკენ გაეშურა. გადაიარა 9 სერი, 9 გორა და თვალუნვდენელ მწვანე მინდორს მიადგა. შეძვრა თავის სოროში და რამდენიმე დღე გარეთ აღარ გაუხედავს, ტკბილად ეძინა და ფერად სიზმრებს ხედავდა.



ზხო - ხის განი

გაირინდა - გაყურდა, უმოძიოდ იჯდა

დამფრთხალი - შეშინებული

ახელ ქართული ჟესჟჳ

1. რატომ იყო ტყე ბნელი და ნესტიანი?

2. შენი აზრით, რომელი ფრინველი ნახა თავუნამ ტყეში? რატომ შეეშინდა მისი?

3. როგორ სიზმრებს ხედავდა სახლში დაბრუნებული თაგუნა? როგორ ფიქრობ, რატომ ჩაეძინა ასე ტკბილად?

Handwriting lines for question 3.

4. რატომ აღარ გააგრძელა თაგუნამ ტყეში მოგზაურობა?

Yellow square checkbox

დაეზახა.

Green square checkbox

მიხვდა, რომ საფხთხე ელოდა.

5. ჩამონერე თაგუნას რამდენიმე თვისება და მიუწერე შესაბამისი არგუმენტი.



თვისება	შესაბამისი წინადადება გექსგიდან
<p>_____</p> <p>_____</p> <p>_____</p>	<p>_____</p> <p>_____</p> <p>_____</p>
<p>_____</p> <p>_____</p> <p>_____</p>	<p>_____</p> <p>_____</p> <p>_____</p>

6. დანერე შენი მოსაზრება, რას ნახავდა თაგუნა სიზმარში?


თაგუნას სიზმაიი

Lined writing area for the student's response.



ბუნება

7. როგორც იცი, ბუ მტაცებელი ფრინველია – იგი ხორციით იკვებება; თავს კი ძალიან უყვარს მარცვლეული. გაითვალისწინე ეს ინფორმაცია, დაიხმარე ნახატი და ჩანერე, რა რით იკვებება?



8. როგორ ხმას გამოსცემს ბუ? (შემოხაზე სწორი პასუხი)

ჩხავის

ჭიჭიკებს

გაღობს

კივის

÷ 7 - + 3 - **მათემატიკა** - - 1 - 5 = +

9. მოგზაურობისას რამდენჯერ მოუწია თავუნას თითოეული სერისა და გორის გადავლა?

ცხაჯეხ

სამჯეხ

ოხჯეხ

10. ტყეში ეყარა 9 გირჩი, 5 წიფელი, 3 რკო, 6 მაჟალო, 8 თხილი. თაგუნამ შეჭამა 1 გირჩი, 3 წიფელი, 1 რკო, 1 მაჟალო, 4 თხილი. გამოთვალე, რამდენი ნაყოფი დარჩა დაყრილი იმავე გზაზე?

Grid for solving problem 10

პასუხი: _____

11. ერთი ბუ დღე-ღამეში ანადგურებს 5 თაგვს; ერთი თაგვი კი დღე-ღამეში ანადგურებს 3 კგ მარცვლეულს. რამდენ კილოგრამ მარცვლეულს გადაარჩენს ორი ბუ?

Grid for solving problem 11

პასუხი: _____

☀️ ☆ მასწავლებლის კომენტაჰი ☆ ☀️

Three horizontal lines for teacher's comment